

Nom, prénom, classe :

date :

Contrôle de Géographie N°1

Note :

Observations :

6^{ème} 1 : 15.32 de moyenne ; la carte et le globe sont bien appris, les définitions et les directions sont moins bien maîtrisés...

Propreté et orthographe sur 0.5 point.

Définitions : 4 points

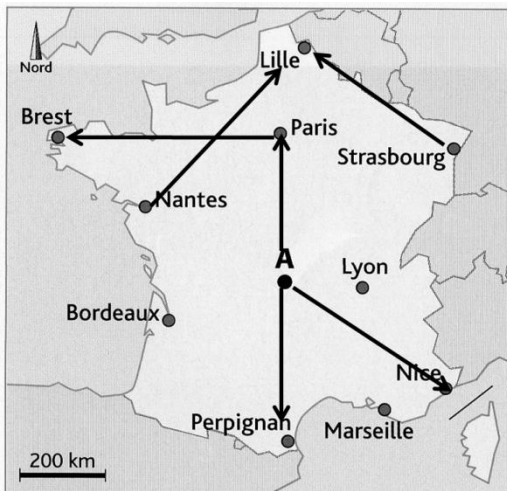
Rural : de la campagne

Un continent : immense étendue de terre entourée d'océans

Un détroit : un passage maritime situé entre deux terres

Une échelle : une petite distance sur la carte correspond à une grande distance dans la réalité

S'orienter : Sur le croquis qui suit, repérer la direction indiquée par les flèches et répondre à l'aide de la rose des vents. **3.5 points**



De A à Nice, la flèche va vers le **Sud-Est**.

De A à Paris, la flèche va vers le **Nord**.

De Paris à Brest, la flèche va vers l'**Ouest**.

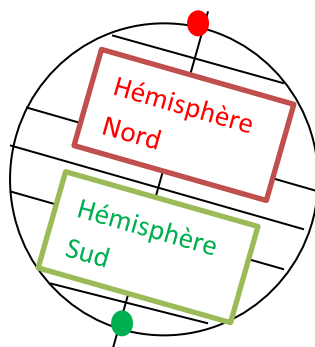
De Nantes à Lille, la flèche va vers le **Nord-Est**.

De Strasbourg à Lille, la flèche va vers le **Nord-Ouest**.

De A à Perpignan, la flèche va vers le **Sud**.

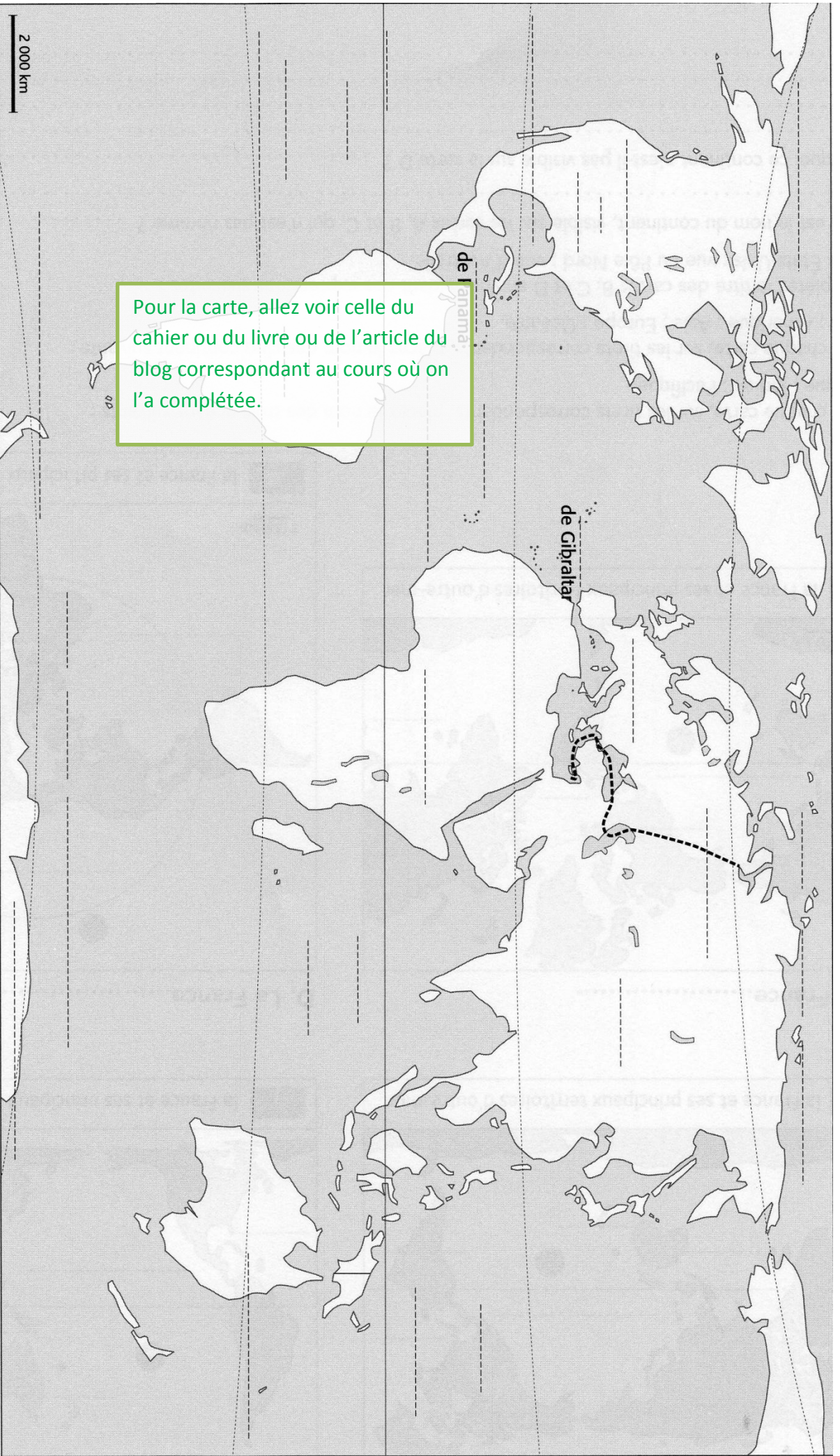
Paris est au **Sud-Ouest** des Ardennes.

Repérer sur le globe terrestre : Sur ce schéma, colorier en rouge l'hémisphère Nord, en vert l'hémisphère Sud. Fais un gros point rouge sur le pôle Nord et un gros point vert sur le pôle Sud. **2 points.**



Décris en 2 ou 3 phrases le paysage de Signy-l'Abbaye et ses alentours (1.5 point) :

Le paysage de Signy-l'Abbaye est un paysage rural. En effet, Signy est un grand village avec des rues, des habitations... Aux alentours, on observe surtout des champs et des forêts. Il y a également une grande usine à proximité.



Pour la carte, allez voir celle du cahier ou du livre ou de l'article du blog correspondant au cours où on l'a complétée.

Repérer sur un planisphère (9.5 points)

Ecrire au bon endroit en noir les 6 **continents**, en bleu les 5 **océans**, en vert le nom des 5 **lignes imaginaires**.

Compléter devant Gibraltar et Panama avec le bon mot. Colorie la France en rouge.

Note de la carte

/9,5